


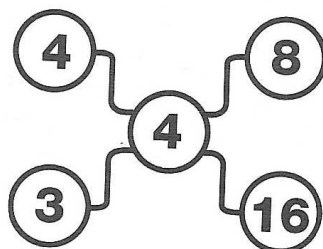

MATEMATYCZNA LIGA ZADANIOWA

LISTOPAD - KLASA 6

Oddaj zeszyt do 29 listopada :-)

Zadanie 1

Jakiej liczby brakuje w ostatnim segmencie?



Zadanie 2

Samochód wyrusza z punktu P w południe z szybkością 90 km/h. O której godzinie dogoni rowerzystę, który wyruszył o 7 rano z prędkością 15 km/h ?

Zadanie 3

Sześcian pomalowany na czerwono rozcięto na 125 małych sześcianników. Ile wśród nich nie ma ani jednej ściany pomalowanej na czerwono?

Zadanie 4

Piłka puszczone swobodnie z wysokości 10 m odbija się od podłogi na wysokości 0,4 wysokości początkowej. Jaką wysokość osiągnie piłka po piątym odbiciu?

POWODZENIA :-)